

## OBJETO DO CONHECIMENTO

Figuras geométricas planas (triângulo, quadrado, retângulo, trapézio e paralelogramo): reconhecimento e análise de características.

### HABILIDADE:

(EF03MA15) Classificar e comparar figuras planas (triângulo, quadrado, retângulo, trapézio e paralelogramo) em relação a seus lados (quantidade, posições relativas e comprimento) e vértices.

# ATIVIDADES COM FOCO NO ACOMPANHAMENTO DAS APRENDIZAGENS

ESCOLA:

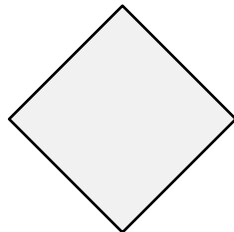


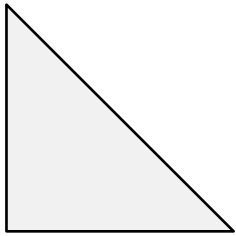
PROFESSOR(A):

ESTUDANTE:

TURMA:

1

Nomeie as figuras geométricas planas, desenhadas abaixo:



2

Descreva as figuras geométricas planas abaixo, apontando semelhanças e diferenças entre elas.



---

---


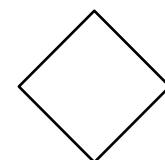


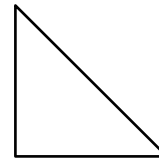
---

---

---

---

Crie uma legenda com características de figuras planas e depois pinte as figuras que possuem essa característica com a cor correspondente.



Legenda:


## ATIVIDADES COM FOCO NO ACOMPANHAMENTO DAS APRENDIZAGENS

4

Identifique as formas geométricas planas presentes na imagem abaixo e escreva o nome delas.



ilgam nugumanov/Shutterstock.com

---


---

---

---

5

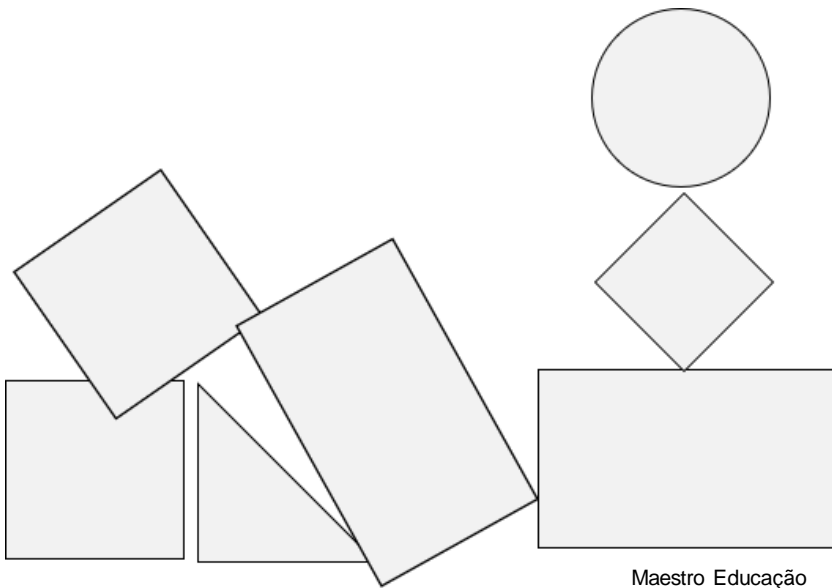
Faça um desenho utilizando várias figuras geométricas diferentes:



## ATIVIDADES COM FOCO NO ACOMPANHAMENTO DAS APRENDIZAGENS

6

Preencha o quadro ao lado, escrevendo o nome da figura geométrica e apontando o número de lados e vértices.



NOME DA FIGURA GEOMÉTRICA	NÚMERO DE LADOS	NÚMERO DE VÉRTICES

7

Escreva duas semelhanças entre o quadrado e o retângulo.

---

---

---

---

---

---

---

---

---

---

---

---

# ATIVIDADES COM FOCO NO ACOMPANHAMENTO DAS APRENDIZAGENS

ESCOLA:

PROFESSOR(A):

ESTUDANTE:

TURMA:

8 Observe as figuras e escreva suas semelhanças e diferenças.

Triângulo



Maestro Educação

Quadrado



Maestro Educação

Semelhança

---

---

---

---

Diferença

---

---

---

---

9 Observe as figuras e escreva suas semelhanças e diferenças.

Triângulo



Maestro Educação

Retângulo



Maestro Educação

Semelhança

---

---

---

---

Diferença

---

---

---

---

10 Observe as figuras e escreva suas semelhanças e diferenças.

Trapézio



Maestro Educação

Triângulo



Maestro Educação

Semelhança

---

---

---

---

Diferença

---

---

---

---

11 Observe as figuras e escreva suas semelhanças e diferenças.

Retângulo



Maestro Educação

Quadrado



Maestro Educação

Semelhança

---

---

---

---

Diferença

---

---

---

---

# ATIVIDADES COM FOCO NO ACOMPANHAMENTO DAS APRENDIZAGENS

ESCOLA:

PROFESSOR(A):

ESTUDANTE:

TURMA:

12 Observe as figuras e escreva suas semelhanças e diferenças.

Quadrado



Maestro Educação

Trapézio



Maestro Educação

Semelhança

---

---

---

---

---

Diferença

---

---

---

---

---

13 Observe as figuras e escreva suas semelhanças e diferenças.

Retângulo



Maestro Educação

Trapézio



Maestro Educação

Semelhança

---

---

---

---

---

Diferença

---

---

---

---

---